

**Tekst I** (dotyczy zadań 1, 2, 3 i 4)

Ogród państwa Barry był to istny gąszcz kwiatów, które w każdej innej, nie tak decydującej i podniosłej chwili wprawiłyby w zachwyty wrażliwą Anię. Otaczały go rozłożyste, stare wierzby i wielkie, wysokie sosny, pod którymi tuliły się kwiaty nie znoszące nadmiaru słońca. Wymuskane, o prostych liniach ścieżki, schludnie obrzeżone z obu stron muszlami, przerzywały go na wszystkie strony niby czerwone, wilgotne wstęgi, na klombach zaś pstrzyła się istna orgia najbardziej uroczych kwiatów. Kwitły tam różowo stokrotki i wielkie, wspaniałe, karmazynowe piwonie; białe narcyzy o upajającej woni i cierniste różyczki polne; czerwone, niebieskie i białe orliki i liliowe dzwonki; kępy piołunu, wstęga trawy i mięty; purpurowe bratki, żonkile i mnóstwo słodkiej koniczyny o delikatnym, wonnym, puszystym kwieciu; szkarłatna szałwia, wystrzelająca swymi płomiennymi lancami ponad wymuskane białe pelargonie. Był to ogród pełen promieni słońca, brzęku pszczoł i powiewów wietrzyka, który szemrał i szeleścił pośród drzew, zachwycony najwidoczniej swą włóczęgą.

*L. Maud Montgomery „Ania z Zielonego Wzgórza”*

**1. O ogrodzie państwa Barry opowiada:**

- A. Ania                      B. Diana                      C. podmiot liryczny                      D. narrator

**2. W powyższym fragmencie powieści przeważa:**

- A. sprawozdanie                      B. ogłoszenie                      C. opowiadanie                      D. opis

**3. Opisany ogród należał do:**

- A. Ani Shirley  
B. Maryli Cuthbert  
C. państwa Barry  
D. Małgorzaty Linde

**4. Jakiego koloru są kwiaty szaławii w tym ogrodzie?**

- A. białego  
B. niebieskiego  
C. purpurowego  
D. szkarłatnego

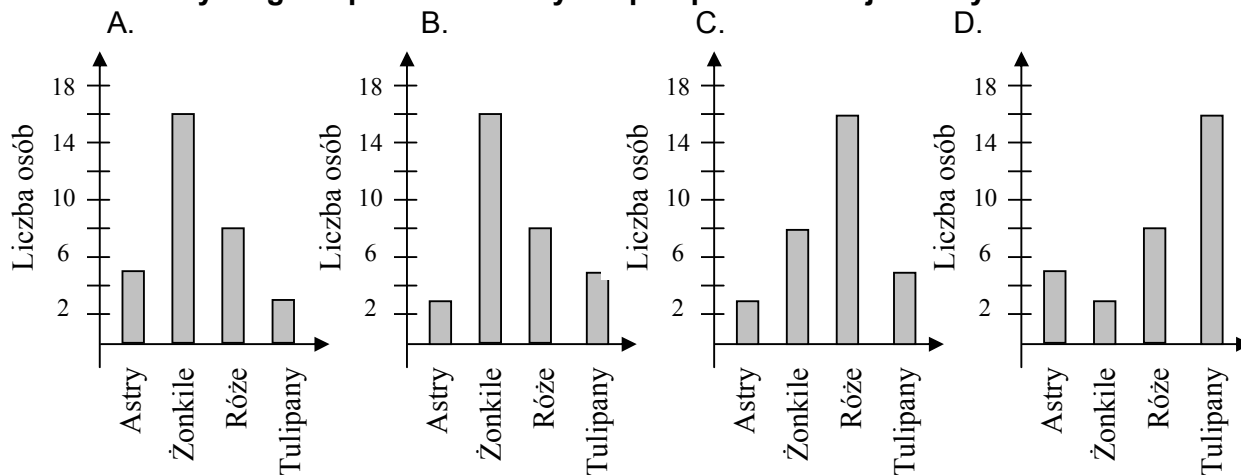
5. W jakim słowniku znajdziesz wyjaśnienie wyrażenia: *gąszcz kwiatów, upajająca woń*:
- Słownik języka polskiego
  - Słownik frazeologiczny
  - Słownik wyrazów bliskoznacznych
  - Słownik poprawnej polszczyzny
6. Wyrażenie: „*ścieżki przerzywały go na wszystkie strony niby czerwone, wilgotne wstęgi*” jest:
- epitetem
  - przenośnią
  - porównaniem
  - ożywieniem
7. W którym szeregu wypisano nazwy kwiatów w porządku alfabetycznym
- stokrotki, piwonie, narcyzy, różyczki, orliki, dzwonki, bratki, żonkile, pelargonie
  - bratki, dzwonki, narcyzy, orliki, pelargonie, piwonie, różyczki, stokrotki, żonkile
  - bratki, piwonie, pelargonie, narcyzy, orliki, żonkile, dzwonki, różyczki, stokrotki
  - orliki, stokrotki, pelargonie piwonie, narcyzy, bratki, różyczki, dzwonki, żonkile

**TEKST II** (dotyczy zadania 8 i 9)

Przeprowadzono ankietę. Zapytano 32 osoby, jakie kwiaty ogrodowe lubią najbardziej. Okazało się, że róże najbardziej lubi 16 osób, 8 osób żonkile, 5 osób najbardziej lubi tulipany, a tylko 3 osoby astry.

8. 25% spośród ankietowanych osób lubi:
- róże
  - żonkile
  - tulipany
  - astry

9. Który diagram przedstawia wyniki przeprowadzonej ankiety:



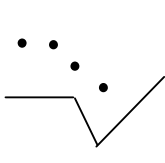

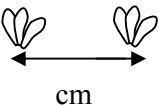
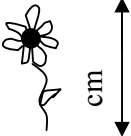


**Tekst III** (dotyczy zadania 10 i 11)

Pani Barry założyła swój ogród wiosną 1856 roku .

10. Ile czasu minęło od założenia ogrodu do dzisiaj?  
A. 852 lata                      B. 142 lata                      C. 148 lat                      D. 252 lata
11. W którym wieku pani Barry założyła swój ogród?  
A. XVII                      B. XX                      C. XVIII                      D. XIX

**Tekst IV** (dotyczy zadania 12 i 13)

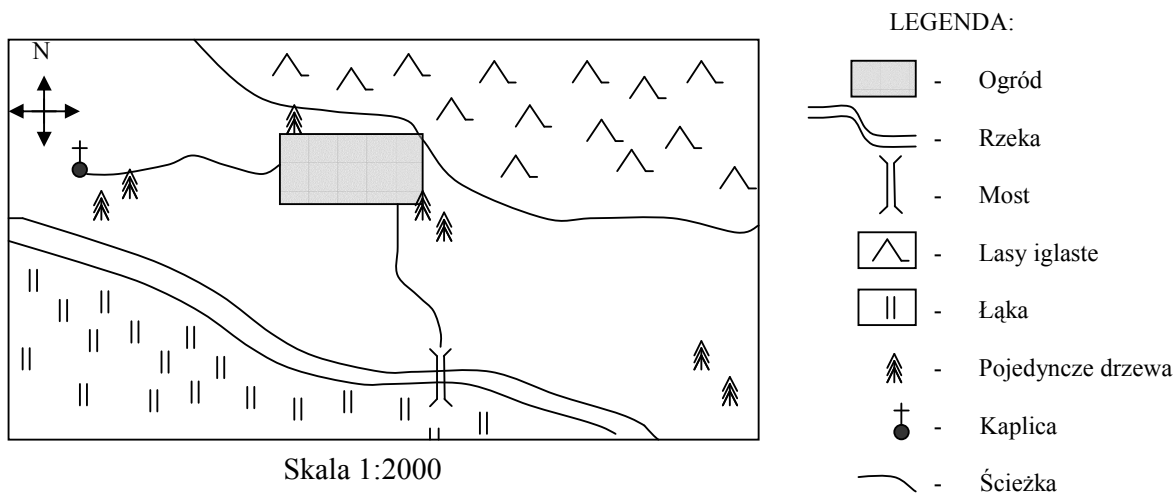
Ania kupiła nasiona cynii, które chciała wysiać w ogrodzie. Na opakowaniu zauważyła informację.

				
V	VII – X	30 x 40	80 – 90	

12. Z podanych informacji można odczytać, że cynie kwitną w:  
A. maju                      B. czerwcu                      C. sierpniu                      D. listopadzie
13. Cynia jest rośliną jednoroczną o sztywnych pędach i pastelowych kwiatach. Jaką wysokość osiągają cynie ?  
A. 60cm                      B. 90cm                      C. 120cm                      D. 40cm
14. Jak myślisz, które z rosnących w ogrodzie roślin należą do ziół ?  
A. orliki i dzwonki                      C. piołun i mięta  
B. żonkile i bratki                      D. wierzby i sosny
15. Hasło *piołun* można znaleźć w encyklopedii między hasłami  
A. *Pińsk i pion*                      C. *pionier i pióra*  
B. *pilotaż i piła*                      D. *pinia i pionier*

**TEKST V** (dotyczy zadania 16 i 17)

Ania postanowiła wykonać plan okolic ogrodu państwa Barry. Po tygodniu plan był gotowy.



- 16. Ogród państwa Barry jest prostokątem, który na planie ma wymiary 2cm x 1cm. Rzeczywiste wymiary tego ogrodu wynoszą:**
- A. 4m x 2m
  - B. 40m x 20m
  - C. 0,4km x 0,2km
  - D. 400m x 200m
- 17. Na podstawie planu odpowiedz, w którym kierunku od ogrodu znajduje się kaplica?**
- A. południowym
  - B. wschodnim
  - C. północnym
  - D. zachodnim
- 18. Ania odwiedziła ogród państwa Barry w maju. Jaka to była pora roku?**
- A. wiosna
  - B. jesień
  - C. lato
  - D. zima
- 19. Co powinna zabrać ze sobą Ania, żeby dokładnie przyjrzeć się płatkom kwiatów i skrzydłom pszczoł?**
- A. mikroskop
  - B. lupę
  - C. lornetkę
  - D. aparat fotograficzny

20. Wczoraj Ania zauważyła nadciągające od zachodu chmury deszczowe. Zaczęło padać za dwadzieścia ósma wieczorem i padało do wpół do siódmej rano następnego dnia. Ile czasu padał deszcz?


- A. 9godz 10 min
- B. 10godz 10min
- C. 10godz 50min
- D. 9godz 50min

21. Maryla zostawiła Ani 15 zł i listę zakupów. Ania wybrała najtańsze towary, aby wystarczyło jej pieniędzy. Kupiła wszystko, o co prosiła ciocia. Ile reszty otrzymała po dokonaniu zakupów?

Aniu kup proszę:  
2 paczki nasion stokrotek  
1 paczkę nasion lobelii  
1 paczkę nasion werbeny  
rękawiczki ochronne  
doniczkę.

**Ceny towarów**  
Paczka nasion stokrotek - 1,20zł  
Paczka nasion lobelii - 0,80zł  
Paczka nasion werbeny - 1,60zł  
Doniczka Ø 15cm - 6,50zł  
Doniczka Ø 20cm - 8,50zł  
Rękawice ochr.bawełniane - 2,10zł  
Rękawice ochr.gumowane - 4,50zł

Zapisz obliczenia



--

Odpowiedź:.....

22. W ogrodzie znajduje się pojemnik przeznaczony do zbierania wody „deszczówki”. Pojemnik ten jest w kształcie prostopadłościanu o wymiarach: długość- 100cm, szerokość- 60cm, wysokość- 40cm. W pojemniku zebrała się już woda do  $\frac{3}{4}$  wysokości pojemnika. Ile litrów wody jest w pojemniku?

Zapisz obliczenia

$1\text{dm}^3 = 1\text{liter}$



Odpowiedź:.....

23. Rośliny są organizmami samożywnymi.

a) w jakim procesie same sobie wytwarzają pokarm?

.....

b) gdzie ten proces zachodzi ?

.....

24. Napisz krótko (3- 5 zdań) co mogła czuć Ania w ogrodzie państwa Barry. Użyj co najmniej 3 wyrazów nazywających uczucia.

.....

.....

.....

.....

.....



BRUDNOPIS

.....  
.....  
.....  
.....  
.....  
.....  
.....  
.....  
.....  
.....  
.....  
.....  
.....  
.....  
.....  
.....  
.....  
.....  
.....  
.....  
.....  
.....  
.....  
.....  
.....  
.....  
.....  
.....  
.....  
.....  
.....  
.....  
.....  
.....  
.....  
.....  
.....  
.....  
.....  
.....  
.....  
.....  
.....